




MATEMÁTICAS 2º ESO. NÚMEROS FRACCIONARIOS

“En un número fraccionario o fracción, el denominador indica las partes en que se divide la unidad y el numerador indica las partes que se toma”.

1. Tomando el rectángulo como unidad, asocia una fracción a cada figura sombreada.



2. Calcula:

- a) $\frac{2}{5}$ de 60 =
- b) $\frac{5}{6}$ de 18 =
- c) $\frac{7}{5}$ de 753 =

3. Escribe cinco fracciones equivalentes a $\frac{10}{12}$.

4. Escribe una fracción equivalente a $\frac{2}{3}$ que tenga por denominador 18.

5. Escribe una fracción equivalente a $\frac{6}{15}$ que tenga por numerador 4.